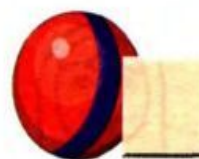


Задания для домашних занятий родителей с детьми:

Восстанови числовой ряд — впиши в пустые клеточки недостающие цифры.



Над низким домом нарисуй два облака, а над высоким — солнышко.



Раскрась матрёшек, соблюдая следующие условия: зелёная матрёшка находится справа от большой, а синяя — слева от красной.



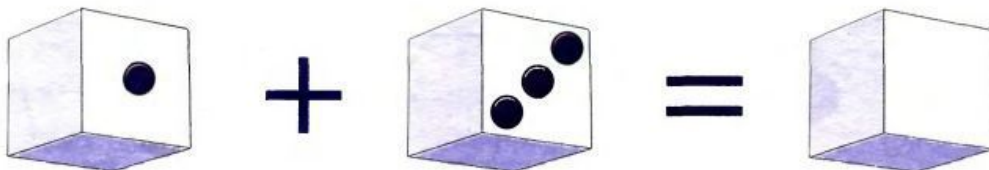
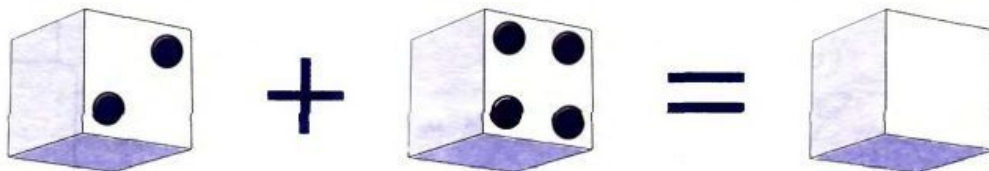
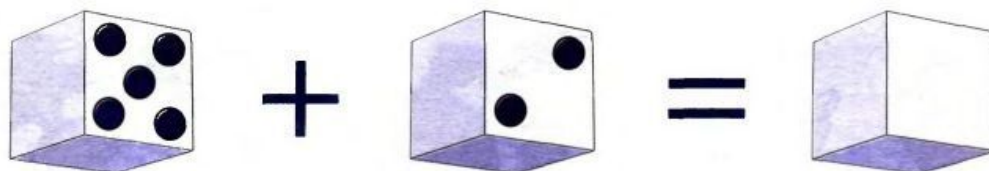
Какие животные — домашние, а какие — дикие? Проведи нужные линии.




Среди предметов найди два лишних и обведи их красным карандашом. Оставшиеся предметы назови одним словом.




Реши примеры. Цифры-ответы напиши на пустых кубиках.



Синий карандаш длиннее красного, красный длиннее зелёного, а жёлтый находится между синим и зелёным. Раскрась карандаши.



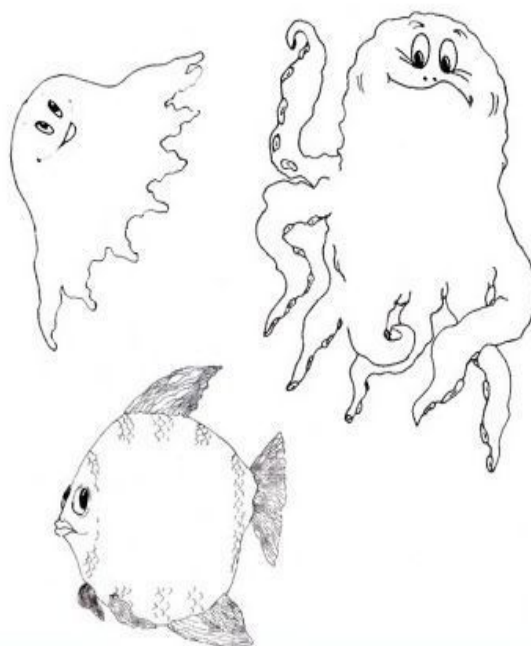
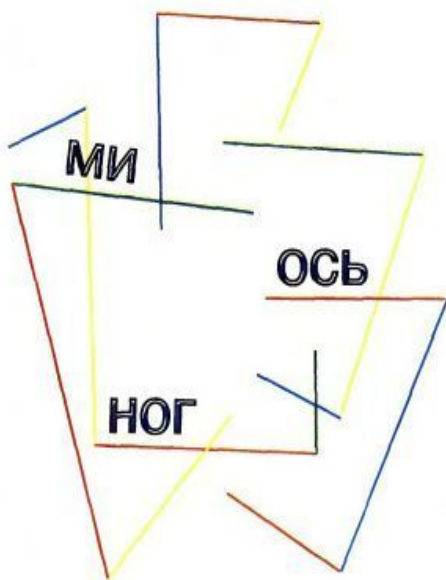
Сосчитай фрукты, овощи и ягоды. Цифры-ответы впиши в пустые клеточки.



Дорисуй каждый треугольник так, чтобы получились новые геометрические фигуры: квадрат, прямоугольник и треугольник.



Составь из слогов слово — и ты узнаешь, кого поймали в море.
Раскрась нужную картинку.

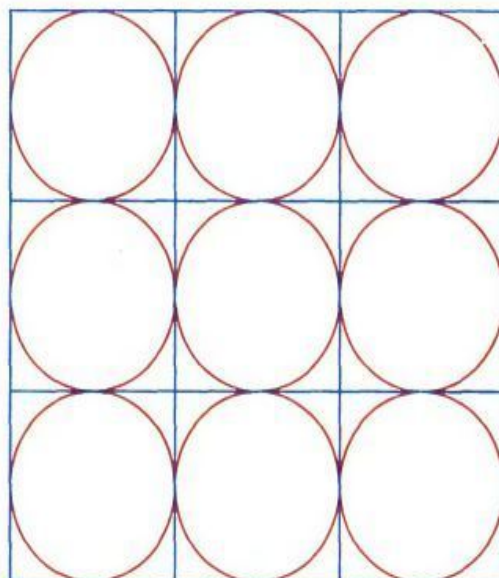


В пустые кружки впиши три единицы, три двойки и три тройки так, чтобы в каждом столбце и в каждой строке встречалась каждая из этих цифр.


1 1 1

2 2 2


3 3 3




Обрати внимание на первую букву изображённых в каждом ряду предметов и обведи лишний.




Соедини разными способами буквы так, чтобы получилось слово "МОЛОКО".




Рассмотри геометрические фигуры. Найди среди них одинаковые и соедини их линиями.



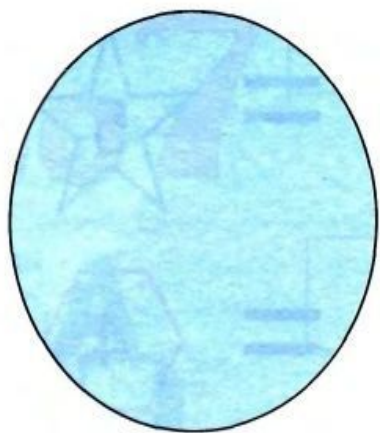
Определи количество точек на гранях игрального кубика, которые тебе не видны. Нарисуй их в пустых клеточках.



Поставь на место нужный осколок. Найди и раскрась его.




Раздели каждый круг тремя прямыми линиями так, чтобы получилось 4 части и 6 частей.



4

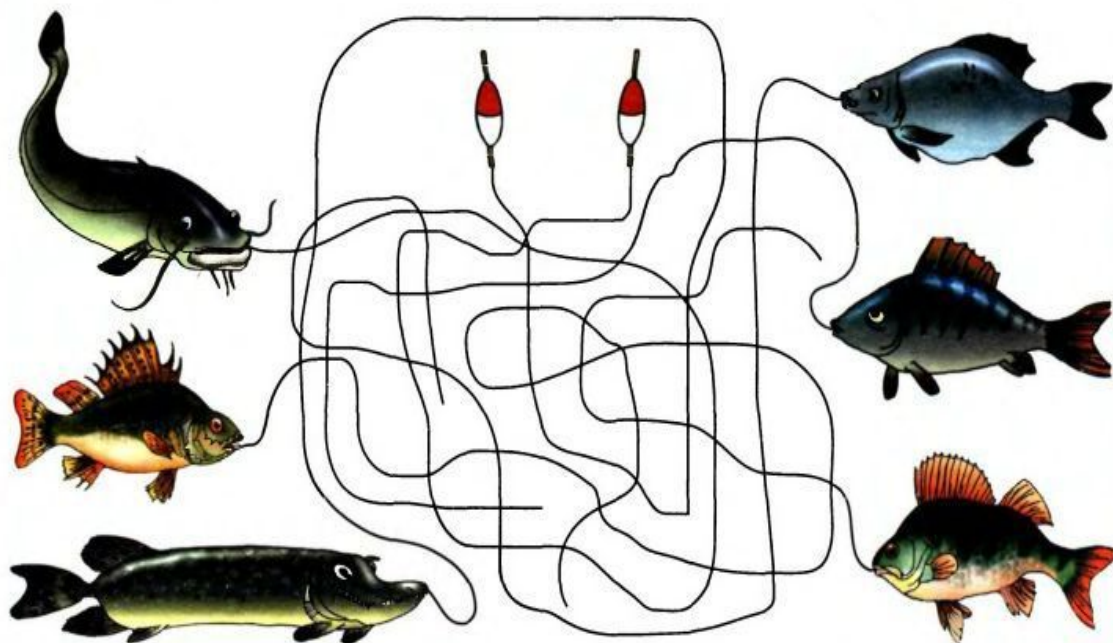
части



6

частей

Определи, какие рыбы не попались на крючок. Обведи их цветными карандашами.



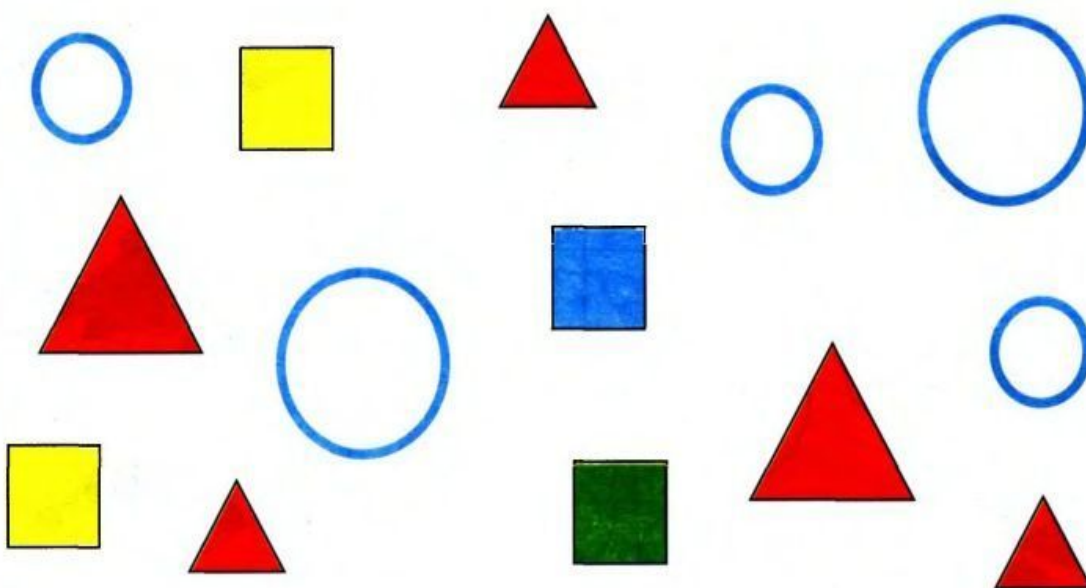
Впиши в пустые фигуры пропущенные цифры так, чтобы получился правильный ответ.

$$\text{☆} + \text{☆} = \text{☆} \begin{matrix} 5 \end{matrix}$$


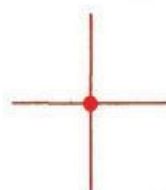
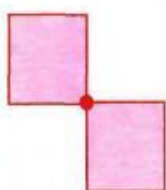

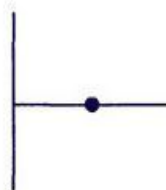
$$\text{⬡} - \text{⬡} = \text{⬡} \begin{matrix} 4 \end{matrix}$$

$$\text{○} + \text{○} = \text{○} \begin{matrix} 7 \end{matrix}$$


Два жёлтых квадрата обведи красным карандашом, два больших треугольника — зелёным, а три маленьких круга закрась синим.




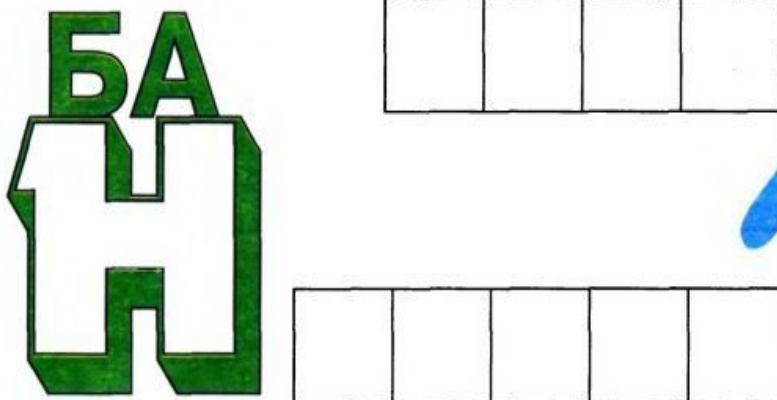
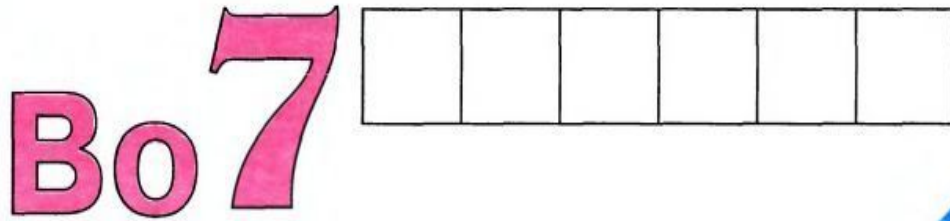
В каждом ряду дорисуй фигуры так, чтобы получилась фигура, показанная на образце.



Рассмотри рисунки. Обведи фрукты красным карандашом, а овощи — синим.



Разгадай ребусы и напиши ответы в пустых клеточках.



В пустых клетках квадрата нарисуй пропущенные геометрические фигуры так, чтобы ни в одной строке и ни в одном столбце они не повторялись.

